

Проверочная работа
по предмету «ОКРУЖАЮЩИЙ МИР»

4 класс

Вариант 27

Инструкция по выполнению работы

На выполнение работы по предмету «Окружающий мир» даётся 45 минут. Работа состоит из двух частей и включает в себя 10 заданий.

Ответы на задания запиши в поле ответа в тексте работы.

При выполнении работы не разрешается пользоваться учебником, рабочими тетрадями и другими справочными материалами.

Советуем выполнять задания в том порядке, в котором они даны. Для экономии времени пропускай задание, которое не удаётся выполнить сразу, и переходи к следующему. Постарайся выполнить как можно больше заданий.

Желаем успеха!

Часть 1**1**

Внимательно рассмотри рисунок, на котором изображены предметы с садового участка. Цветочный горшок может быть изготовлен из глины. Он отмечен на рисунке стрелкой с соответствующей надписью.

























Какие предметы или детали среди изображённых на рисунке могут быть сделаны из металла, а какие – из резины?

Укажи на рисунке стрелкой любой предмет (деталь) из металла и любой предмет (деталь) из резины. Подпиши название соответствующего материала рядом с каждой стрелкой.



2

На интернет-сайтах погоды можно встретить подобные таблицы. Внимательно изучи прогноз погоды на трое суток.

| | Суббота, 24 сентября | | | | Воскресенье, 25 сентября | | | | Понедельник, 25 сентября | | | |
|---------------------------------|---|---|---|---|---|---|--|---|---|---|---|---|
| | Ночь | Утро | День | Вечер | Ночь | Утро | День | Вечер | Ночь | Утро | День | Вечер |
| Облачность и атмосферные осадки |  |  |  |  |  |  |  |  |  |  |  |  |
| Температура воздуха, °С | 8 | 10 | 15 | 12 | 5 | 7 | 10 | 9 | 0 | 4 | 6 | 4 |
| Ветер |  |  |  |  |  |  |  |  |  |  |  |  |
| | В | СВ | СЗ | СЗ | СЗ | СЗ | ЮЗ | З | З | СЗ | З | С |
| Влажность воздуха, % | 73 | 71 | 75 | 64 | 68 | 65 | 70 | 69 | 71 | 69 | 68 | 71 |

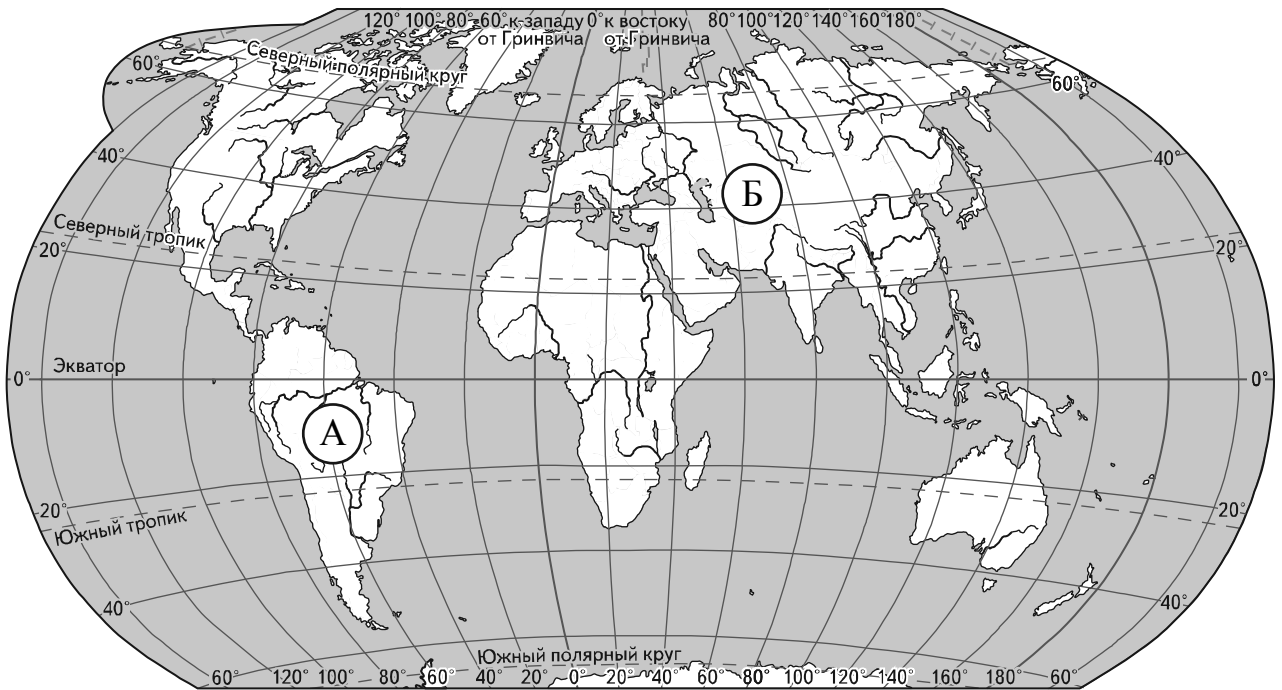
Выбери верные утверждения об ожидаемой погоде на эти трое суток и запиши в строку ответа их номера.

- 1) В течение трёх суток будет наблюдаться облачная погода с прояснениями.
- 2) Самой холодной ожидается ночь в понедельник.
- 3) В ночь с субботы на воскресенье будет дуть северо-восточный ветер.
- 4) Наиболее высокая за трое суток влажность воздуха ожидается в понедельник.

Ответ: _____

Рассмотри карту, фотографии и выполни задание 3.

3 Внимательно рассмотри карту. На ней буквами А и Б отмечены два материка.



3.1. Запиши название каждого материка в отведённое для этого поле.

Название материка (А):

Название материка (Б):

3.2. На следующей странице представлены изображения *амурского тигра*, *колибри*, *пумы* и *бурого медведя*. Запиши на строчках ниже название каждого из этих животных рядом с номером фотографии, на которой оно изображено.

1) _____ 2) _____

3) _____ 4) _____

3.3. Какие из этих животных обитают в естественной среде (не в зоопарке) на материке А, а какие – на материке Б? Запиши **номера**, под которыми указаны эти животные, в отведённое для этого поле после буквы соответствующего материка.

Номера животных (А): _____

Номера животных (Б): _____



1)



2)



3)



4)

4) Если правильно подобрать к началу каждой фразы из первого столбца продолжение фразы из второго столбца, то получится правило, помогающее человеку сохранить здоровье и жизнь. Составь два правила из приведённых частей фраз: для этого к каждой позиции первого столбца подбери соответствующую позицию из второго столбца.

Начало фразы

Продолжение фразы

- А) Чтобы избежать травм при падении различных предметов во время сильного ветра,
- Б) Чтобы не переохладиться, выходя на улицу в холодную погоду,

- 1) старайся находиться в местах, защищённых крышей.
- 2) не залезай на высокие строения.
- 3) надень тёплую одежду.

Запиши в таблицу выбранные цифры под соответствующими буквами.

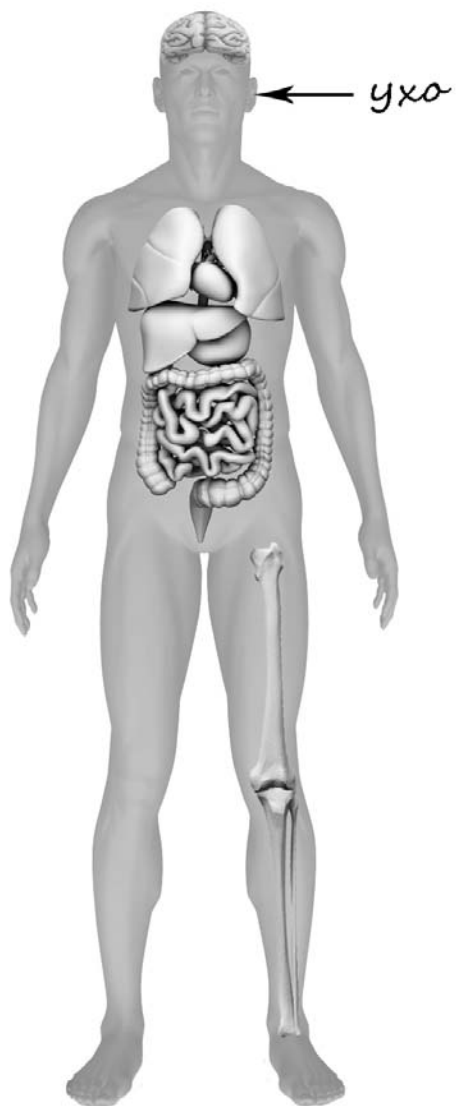


Ответ:

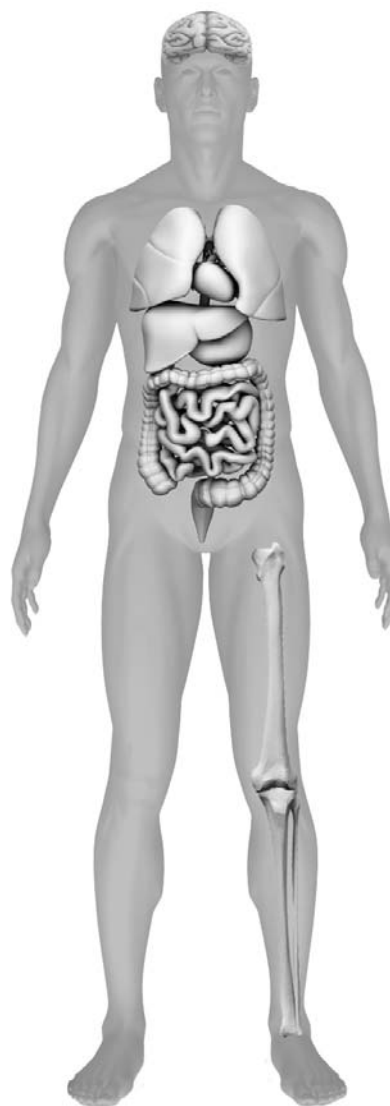
| | | |
|-------------------|---|---|
| Начало фразы | А | Б |
| Продолжение фразы | | |

- 5) Рассмотрите изображение человека. Так же, как на примере слева отмечено ухо, на изображении справа покажите стрелками и подпишите предплечье, лодыжку и кишечник человека.

Пример:




Ответ:



6

Дмитрий проводил опыт, чтобы выяснить, влияет ли вес предмета на его способность держаться на плаву. Он взял два одинаковых по форме и размеру бруска: один деревянный, другой, более лёгкий, из пенопласта – и поместил их в сосуд с водой. Деревянный брусок плавал, но почти весь находился под водой. Брусок из пенопласта также плавал и почти весь находился над водой.



6.1. Сравни условия проведения описанного эксперимента. Подчеркни в каждой строке одно из выделенных слов.

Размеры брусков:

одинаковые / различные

Вес брусков:

одинаковый / различный

6.2. По результатам эксперимента сделай вывод о том, как влияет вес предмета на его способность держаться на плаву.

Ответ: _____

6.3. Если бы Дмитрий захотел выяснить, влияет ли форма предметов на их плавучесть, с помощью какого эксперимента он мог бы это сделать? Опиши этот эксперимент.

Ответ: _____

Часть 2

При выполнении заданий 7–10 последовательно отвечай на каждый из представленных вопросов. Ответы записывай чётко и разборчиво, соблюдая нормы речи.

7

Внимательно рассмотри знаки, которые можно встретить соответственно на улице, в парке и на этикетке одежды.

Как ты думаешь, какое правило отражает каждый из этих знаков?
Напиши эти правила.



1)



2)



3)

Правило 1: _____

Правило 2: _____

Правило 3: _____



8 На фотографиях изображены предметы, с которыми работают представители определённых профессий. Выбери одну из фотографий и запиши букву, под которой она приведена. Представители какой профессии работают с изображённым(-и) на выбранной фотографии предметом(-ами)? Если ты знаешь много профессий, представители которых работают с выбранным(-и) тобой предметом(-ами), назови любую из них. Какую работу выполняют люди этой профессии? Чем работа людей этой профессии полезна обществу?

А)



Б)



В)



Выбранная фотография:

Ответ: _____

9 Как ты думаешь, почему для современного человека важно уважительно относиться к традициям разных народов? (Напиши ответ объёмом до пяти предложений.)

Ответ: _____

10 10.1. Запиши название региона: республики, или области, или края, или автономного округа, в котором ты живёшь.

Ответ: _____

10.2. Как называется главный город твоего региона?

Ответ: _____

10.3. Производством каких товаров или продуктов известен твой регион?

Ответ: _____

Какие растения могут встретиться в природе твоего региона (назови не менее трёх растений)? Опиши одно из этих растений. Как это растение используется людьми.

Ответ: _____
